



Учебен център "Регалия" организира:

- целогодишни курсове за подготовка за зрелостни и кандидатстудентски изпити;
- целогодишни курсове за кандидатстване в езикови и профилирани гимназии по български език и математика;
- пробни изпити за кандидатстване след 7. клас;
- курсове за текуща подготовка по български език и математика за 6. клас.



На интернет страницата на Учебния център
<http://www.regalia6.com>
може да намерите:

[тестове за външно оценяване за 4. клас](#)

[тестове за външно оценяване за 5. клас](#)

[тестове за външно оценяване за 6. клас](#)

[тестове за външно оценяване и кандидатстване след 7. клас](#)

[конкурсни изпити за кандидатстване след 7. клас](#)

[задачи от национални състезания за 7. клас](#)

[примерни тестове за ЕПИ на УНСС](#)

[тестове за зрелостни изпити](#)

[връзки към средни училища в София](#)

[връзки към висши училища в България](#)

и още много полезна информация.

МИНИСТЕРСТВО НА ОБРАЗОВАНИЕТО И НАУКАТА
ЦЕНТЪР ЗА КОНТРОЛ И ОЦЕНКА НА КАЧЕСТВОТО НА ОБРАЗОВАНИЕТО

№ в клас

трите имена

М Ж

пол

Б – български; Т – турски; Р – ромски; Д – друг
(език, на който най-често се говори в семейството)

ТЕСТ ПО ГЕОГРАФИЯ И ИКОНОМИКА ЗА V КЛАС

1. Кой период обхваща епохата на Великите географски открития?

- а) XI-XIII в. б) XIII-XV в. в) XV-XVIII в. г) XVIII-XIX в.

2. Компасът е ориентиран, когато магнитната стрелка сочи посоката:

- а) север б) юг в) изток г) запад

3. Кое твърдение се отнася за меридианите?

- а) мислени линии, прекарани успоредно на Екватора
б) служат за определяне на географската ширина
в) служат за определяне на географската дължина
г) имат различна дължина

4. Разстоянието между два обекта на географска карта с мащаб 1:100 000 е 3 см. Колко е действителното разстояние между тях?

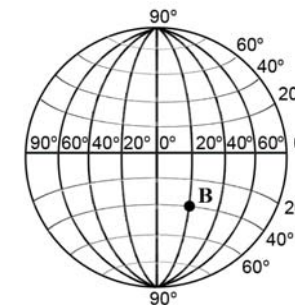
- а) 3 000 км б) 300 км в) 30 км г) 3 км

5. Какъв е мащабът на средномащабните географски карти?

- а) от 1:100 до 1:5 000 в) от 1:200 000 до 1:1 000 000
б) от 1:5 000 до 1:200 000 г) над 1:1 000 000

6. С помощта на градусната мрежа определете географските координати на **точка В**:

- а) 20° с. ш., 60° и.д.
б) 40° ю.ш., 20° и.д.
в) 20° с.ш., 60° з.д.
г) 40° с.ш., 20° и.д.



7. Земята се завърта около оста си за:

- а) година б) месец в) седмица г) денонощие

8. Кога настъпва есента в Южното полукълбо?

- а) 21 март б) 22 юни в) 23 септември г) 22 декември

9. Кой океан е означен с цифрата 1 на картосхемата?



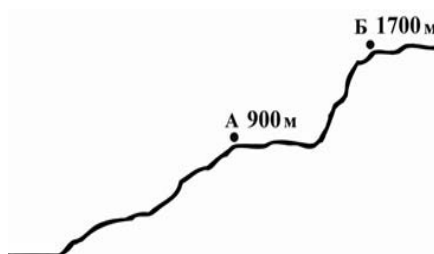
- а) Атлантически в) Тихи
б) Индийски г) Северен ледовит (Арктичен)

10. Вдлъбнатите форми на релефа са:

- а) плата
б) котловини
в) равнини
г) низини

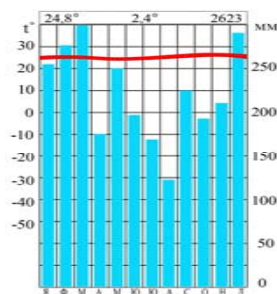
11. Колко метра е относителната височина на точка Б (1700 м) спрямо точка А (900 м), отбелязани на фигурата?

- а) 900 м
- б) 1700 м
- в) 2600 м
- г) 800 м



12. За кой климатичен пояс се отнася климатограмата?

- а) екваториален
- б) тропичен
- в) умерен
- г) полярен



13. В коя група са включени само води на сушата?

- а) ледниците, моретата, подземните води
- б) езерата, реките, ледниците
- в) реките, моретата, езерата
- г) моретата, подземните води, реките

14. За кои географски ширини е характерна оскъдната растителност, представена от бодливи храсти и сухи треви?

- а) екваториалните
- б) тропичните
- в) умерените
- г) полярните

15. Коя е пропуснатата дума в изречението?

С изменението на от Екватора към полюсите се сменят и природните зони.

- а) релефа
- б) климата
- в) водите
- г) скалите

16. Коя група се състои само от изкопаеми горива?

- а) въглища, диаманти
- б) въглища, нефт
- в) нефт, злато
- г) природен газ, мрамор

17. Кой от изброените континенти е с най-малък брой население?

- а) Европа
- б) Австралия
- в) Северна Америка
- г) Африка

18. Коя група се отнася към европейдната раса?

- а) араби, индуци
- б) индианци, ескимоси
- в) японци, вьетнамци
- г) нигерийци, аборигени

19. Монголоидната раса е най-разпространена в континента:

- а) Северна Америка
- б) Южна Америка
- в) Азия
- г) Австралия

20. За коя религия се отнасят следните особености: „Тя е най-младата от световните религии. Възниква през VII в. на полуостров Арабия. Преобладава в Северна Африка и Югозападна Азия”?

- а) християнство
- б) ислям
- в) будизъм
- г) юдаизъм

21. Коя държава е най-голяма по площ от посочените?

- а) Индия
- б) Македония
- в) Япония
- г) Гърция

22. За коя международна организация се отнася описанието: „Най-голямата световна организация е създадена през 1945 г. Държавите, членуващи в нея са обединени от идеята за мир, сигурност и взаимопомощ”?

- а) НАТО
- б) ЕС
- в) ООН
- г) НАФТА

23. Кой стопански отрасъл е най-силно зависим от природните условия?

- а) земеделие
- б) промишленост
- в) транспорт
- г) туризъм

24. Кой стопански отрасъл НЕ произвежда стоки, но свързва всички останали отрасли?

- а) промишленост
- б) транспорт
- в) земеделие
- г) туризъм

25. На кой вид географска карта са изобразени животни, които хората отглеждат в различни страни?

- а) природна
- б) политическа
- в) стопанска
- г) релефна