

Учебен център Регалия



Учебен център • Издателство • Всичко за матурите • Е-обучение • За нас

Учебен център "Регалия" организира:

- целогодишни курсове за подготовка за зрелостни и кандидатстудентски изпити;
- целогодишни курсове за кандидатстване в езикови и профилирани гимназии по български език и математика;
- пробни изпити за кандидатстване след 7. клас;
- курсове за текуща подготовка по български език и математика за 6. клас.



На интернет страницата на Учебния център
<http://www.regalia6.com>
може да намерите:

[тестове за външно оценяване за 4. клас](#)

[тестове за външно оценяване за 5. клас](#)

[тестове за външно оценяване за 6. клас](#)

[тестове за външно оценяване и кандидатстване след 7. клас](#)

[конкурсни изпити за кандидатстване след 7. клас](#)

[задачи от национални състезания за 7. клас](#)

[примерни тестове за ЕПИ на УНСС](#)

[тестове за зрелостни изпити](#)

[връзки към средни училища в София](#)

[връзки към висши училища в България](#)

и още много полезна информация.

ТЕСТ № 1

История и цивилизация

1. Праистория се нарича периодът:

- А) до появата на човека
- Б) до откриването на огъня
- В) до появата на първите селища
- Г) до откриването на писмеността

2. Египетската държава възникнала във връзка с необходимостта от:

- А) защита на територията от външни врагове
- Б) изграждането и поддържането на напоителни съоръжения
- В) охрана на търговските пътища
- Г) обединение на местните племена

3. С кое от изброените понятия се означава строго определеното подреждане на хората в обществото, характерно за древен Египет?

- А) администрация
- Б) цивилизация
- В) йерархия
- Г) династия

4. С кои народи е свързана най-ранната история на Месопотамия?

- А) шумери и акадци
- Б) амореи и вавилонци
- В) египтяни и евреи
- Г) асирийци и перси

5. Посочете излишното:

- А) Енлил
- Б) Инана
- В) Мардук
- Г) Озирис

6. Прочетете откъса и посочете с коя цивилизация е свързан митът за Тезей и Ариадна:

Атиняните трябвало периодично да пращат като данък на цар Минос по седем девойки и младежи за Минотавъра – чудовище с бича глава и човешко тяло, което обитавало Лабиринта. Оттам било невъзможно да се излезе. Веднъж за Крит с кървавия данък потеглил и Тезей, син на цар Егей.... Тезей убил Минотавъра и излязъл от Лабиринта с помощта на ленена нишка, дадена му от принцеса Ариадна.

- А) минойската
- Б) ахейската
- В) дорийската
- Г) микенската

7. Управлението на Перикъл в Атина, когато демокрацията достигнала своя завършен вид, се отнася към:
- А) втората половина на VI в. пр. Хр.
 - Б) началото на V в. пр. Хр.
 - В) втората половина на V в. пр. Хр.
 - Г) началото на IV в. пр. Хр.
8. Кой от елинските полиси бил наричан „община на равните“?
- А) Атина
 - Б) Спарта
 - В) Коринт
 - Г) Тива
9. На Олимпийските игри в Атина през 2004 г. трасето на дисциплината маратонско бягане минава по пътя, пробяган от елински хоплит през 490 г. пр. Хр. по време на:
- А) Троянската война
 - Б) Гръко-персийските войни
 - В) Пелопонеската война
 - Г) похода на Александър Македонски срещу Персия
10. За първи път името *траки* е употребено от:
- А) Омир
 - Б) Херодот
 - В) Тукидид
 - Г) Ксенофонт
11. Най-силната тракийска държава създали:
- А) бесите
 - Б) гетите
 - В) одрисите
 - Г) трибалите
12. Македонската държава била създадена:
- А) на север от Елада през VII в. пр. Хр.
 - Б) около устието на р. Струма през VI в. пр. Хр.
 - В) по северното крайбрежие на Егейско море през VI в. пр. Хр.
 - Г) в Тракия през V в. пр. Хр.
13. На илюстрацията е показана бронзова фигура на т.нар. „Капитолийска вълчица“. Според легендата тя е свързана с основаването на:

- А) Атина
- Б) Одриското царство
- В) Македонското царство
- Г) Рим



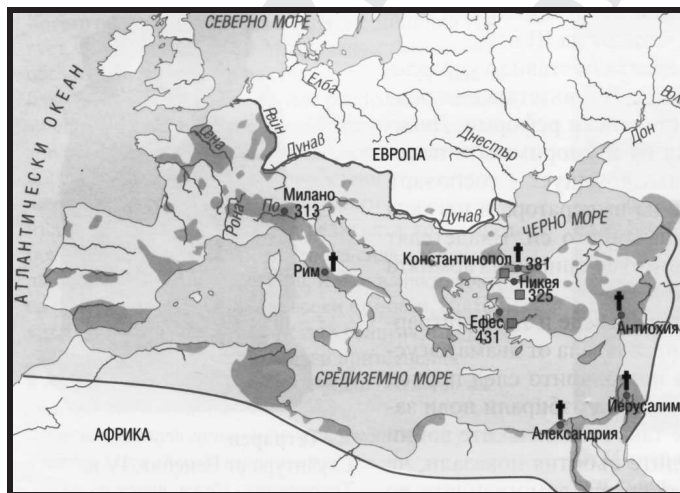
14. Принос на Древния Рим в световната цивилизация е правото (законодателството). Най-старите римски закони са:

- А) законите на Сервий Тулий
- Б) законите на Гай и Улпиан
- В) законите на Дванадесетте таблици
- Г) законите на братя Гракхи

15. *Принципат* означава:

- А) орган на изпълнителната власт
- Б) орган на законодателната власт
- В) управление без сенат
- Г) монархическо управление при формално запазване на републиката

16. Разгледайте картата и определете подходящото за нея заглавие.



- А) Римската империя
- Б) Великата елинска колонизация
- В) Рим – господар на Средиземноморието
- Г) Разпространение на християнството в Римската империя


17. В коя от двойките има несъответствие между владетел и държава?

- А) Рамзес Велики – Египет
- Б) Дарий I – Персия
- В) Константин Велики – Македония
- Г) Теодосий Велики – Римска империя


18. Кой от показаните паметници е най-древен?




А)



Б)



В)



Г)

География и икономика

1. Източници на информация при изучаване на географията са:

- А) текстови и статистически материали
- Б) графични модели и илюстративен материал
- В) картографски материали
- Г) всички изброени

2. Според мащаба географските карти биват:

- А) едромасщабни
- Б) средномасщабни
- В) дребномасщабни
- Г) всички изброени

3. Кой от изброените океани НЕ мие бреговете на Азия?

- А) Тихи океан
- Б) Атлантически океан
- В) Индийски океан
- Г) Арктичен (Северен Ледовит) океан

4. На югозапад континентът Азия е тясно свързан с континента:

- А) Европа
- Б) Северна Америка
- В) Африка
- Г) Австралия

5. Попълнете пропуснатото, така че твърдението да бъде вярно:

Нос Челюскин е най-..... точка на континента Азия.

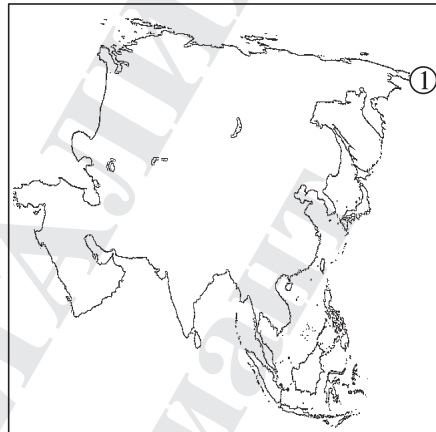
- А) северната
- Б) източната
- В) южната
- Г) западната

6. Най-западната точка на Азия е нос:

- А) Пиай
- Б) Бабабурун
- В) Челюскин
- Г) Дежньов

7. Върху картосхемата с код 1 е обозначен нос:

- А) Пиай
- Б) Дежньов
- В) Бабабурун
- Г) Челюскин



8. Разстоянието между най-северната точка на Азия (н. Челюскин) и най-южната (н. Пиай) по права линия на карта с М 1 : 200 000 000 е 5 cm. Какво е действителното разстояние?

- А) 1000 km
- Б) 5000 km
- В) 10 000 km
- Г) 15 000 km

9. Кой от изброените полуострови НЕ се намира в Южна Азия?

- А) Мала Азия
- Б) Арабски
- В) Индостан
- Г) Индокитай

10. Най-големият залив в континента Азия е:

- А) Персийски
- Б) Омански
- В) Бенгалски
- Г) Аденски

11. Берингово, Охотско и Жълто море са част от басейна на:

- А) Тихи океан
- Б) Атлантически океан
- В) Индийски океан
- Г) Арктичен (Северен Ледовит) океан

12. Кое от посочените морета НЕ е част от басейна на Арктичния (Северен Ледовит) океан?

- А) Карско
- Б) Червено
- В) Чукотско
- Г) Източносибирско

13. Западно от континента Азия е разположен остров:

- А) Шри Ланка
- Б) Сахалин
- В) Калимантан
- Г) Кипър

14. Най-голямата островна група на Земята – Малайският архипелаг, се намира на:

- А) североизток от континента Азия
- Б) северозапад от континента Азия
- В) югоизток от континента Азия
- Г) югозапад от континента Азия

15. Довършете изречението с един от възможните отговори, така че твърдението да бъде вярно:

„През краткотрайното лято крайбрежната ивица на Арктичния (Северен Ледовит) океан се освобождава от ледовете и корабоплаването е възможно. Най-големи острови тук са“

- А) Северна земя
- Б) Новосибирски острови
- В) Курилски острови
- Г) Японски острови

16. В древността европейците НЕ са поддържали търговски връзки:

- А) с Индия
- Б) със страните от п-ов Мала Азия
- В) с Япония
- Г) със страните от Арабския полуостров

17. През XIX в. Средна Азия е изследвана от:

- А) Марко Поло
- Б) Вашку да Гама
- В) Семьон Дежньов
- Г) Пьотр Семьонов-Тяншански и Николай Пржевалски

18. Португалският мореплавател Вашку да Гама достига през XV век до:

- А) Индия
- Б) Япония
- В) Китай
- Г) Индонезия